



ZADANIA MATEMATYCZNE

Spróbuj rozwiązać zadania matematyczne. Swoje odpowiedzi wpisz w wykropkowane miejsca.

1.

Klara miała 23 zł. Kupiła trzy ołówki po 1 zł każdy oraz 4 notesy po 2,5 zł każdy.
Ile pieniędzy jej zostało?

.....
.....

2.

Kacper zjada w ciągu minuty 15 malin.
Ile zje malin w ciągu 6 minut?

.....
.....

3.













Dzieci zrywały w sadzie jabłka. Kasia zerwała 4 owoce, Kamil trzy razy tyle co Kasia, a Matylda o dwa jabłka mniej niż Kamil. Ile jabłek zebrali?

.....
.....



NIETYPOWE ZNAKI

Policz, ile razy dany znak powtarza się w tabelce.

Zapisz właściwą liczbę.









RÓŻNICE

Odszukaj różnice między tabelkami i zaznacz je wybranym przez siebie kolorem.

ao	oa	oa
oa	ao	ao
oo	oa	ao
aa	ao	oo

ao	oa	ao
oa	ao	ao
oo	ao	ao
aa	oo	ao



SKOJARZENIA

Narysuj po trzy skojarzenia do każdego słowa. Nie zastanawiaj się długo, ale narysuj to, co jako pierwsze przychodzi Ci na myśl.

WAKACJE

SZKOŁA

DOM



DBAM O SWÓJ MÓZG

Zapisz lub narysuj, co możesz robić, aby dbać o swój mózg na co dzień.

